



Universidade Federal de São João del-Rei
 Departamento de Geografia – DGEO
 Pós-Graduação em Geografia - PPGE0
 Disciplina Optativa: Impactos Humanos em Recursos Hídricos
 Prof. Ricardo Motta Pinto Coelho
 1 semestre de 2020

Nome: _____ Data: _____

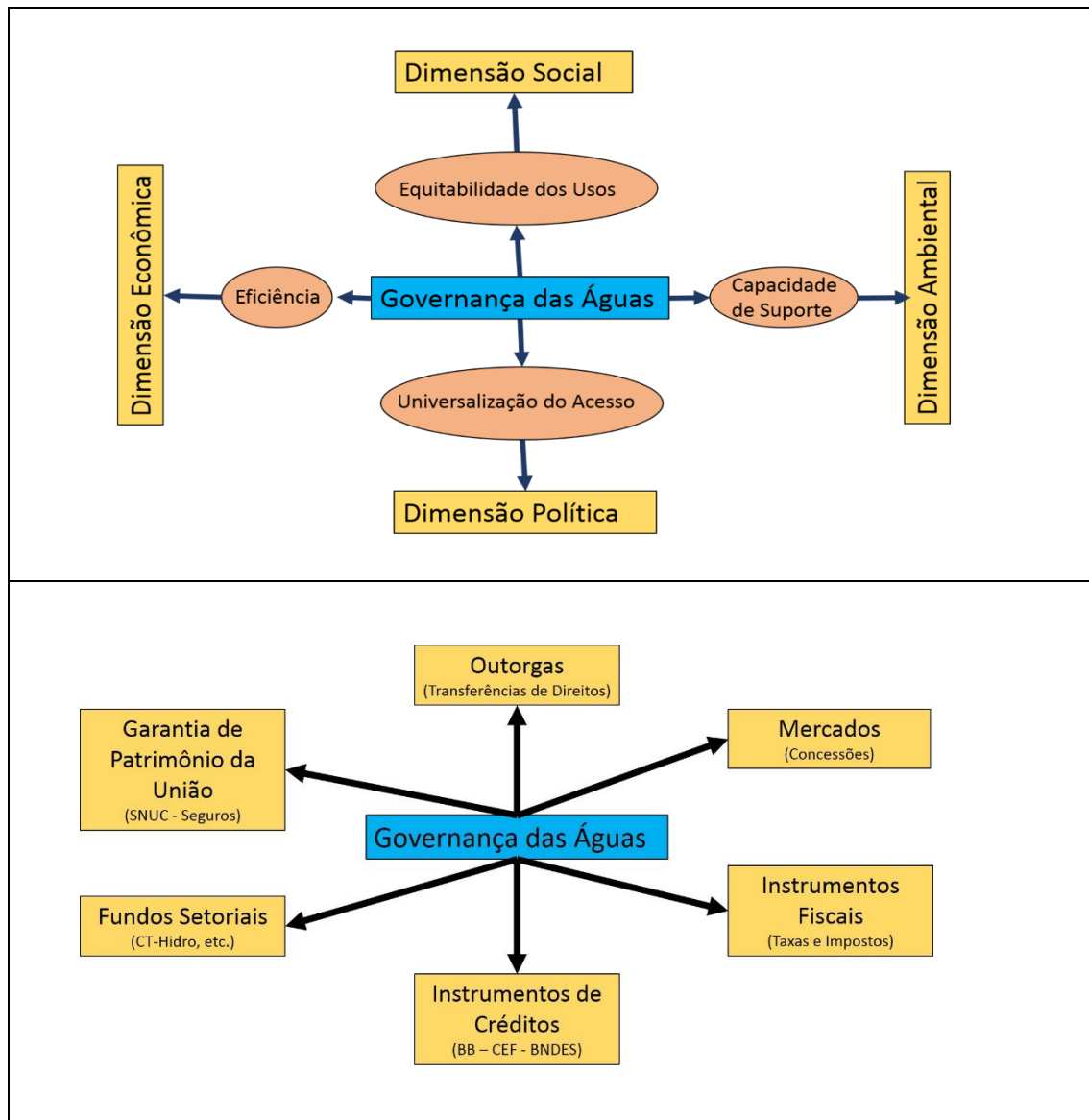
Estudo Dirigido 6

(escreva um mínimo de 400 palavras para cada resposta)

- 1 Defina o que é um sistema de governança das águas e quais são as suas principais dimensões e requerimentos?

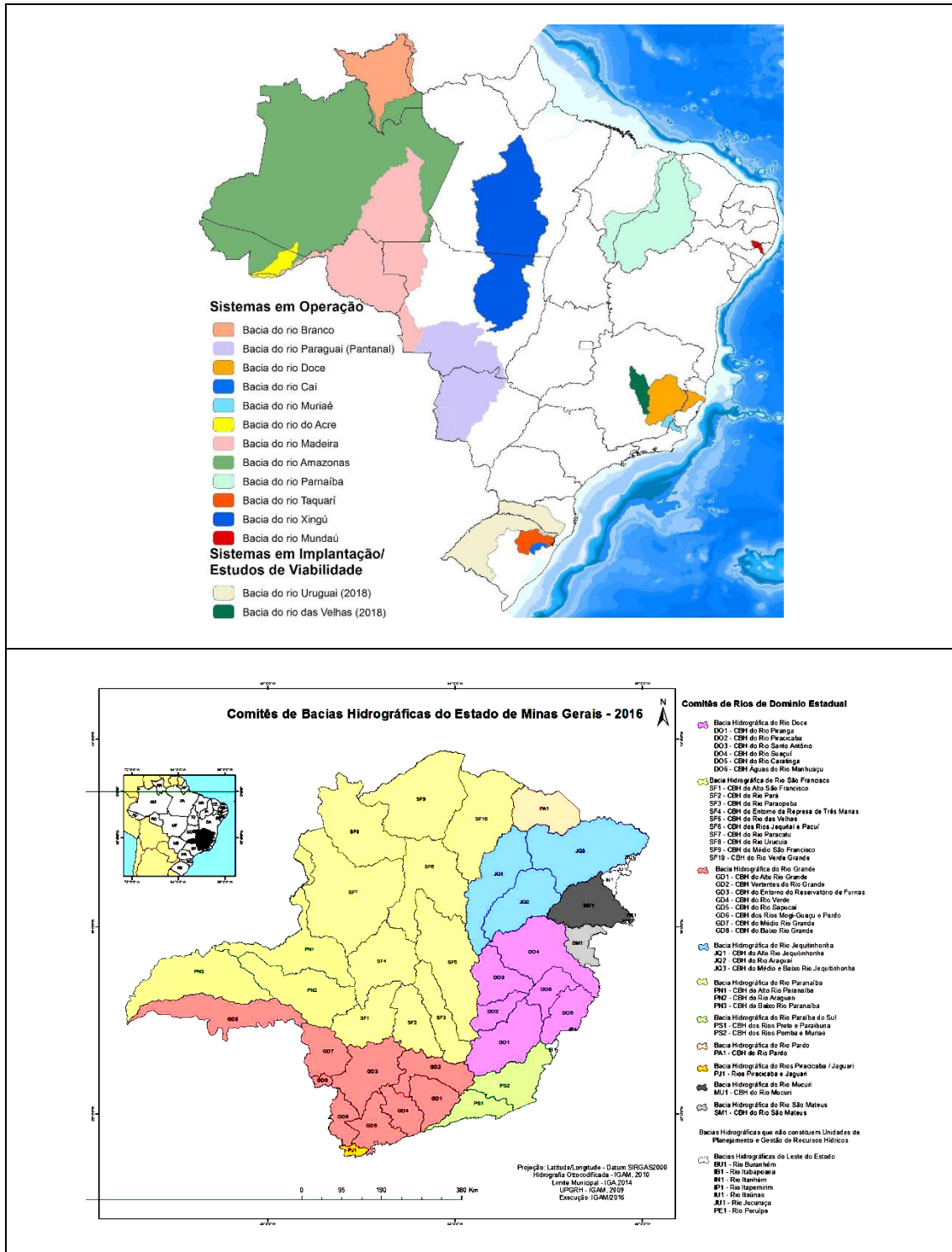
Favor pesquisar em:

http://www.rmpcecologia.com/livro/Crise_Aguas/crise_nas_aguas.htm



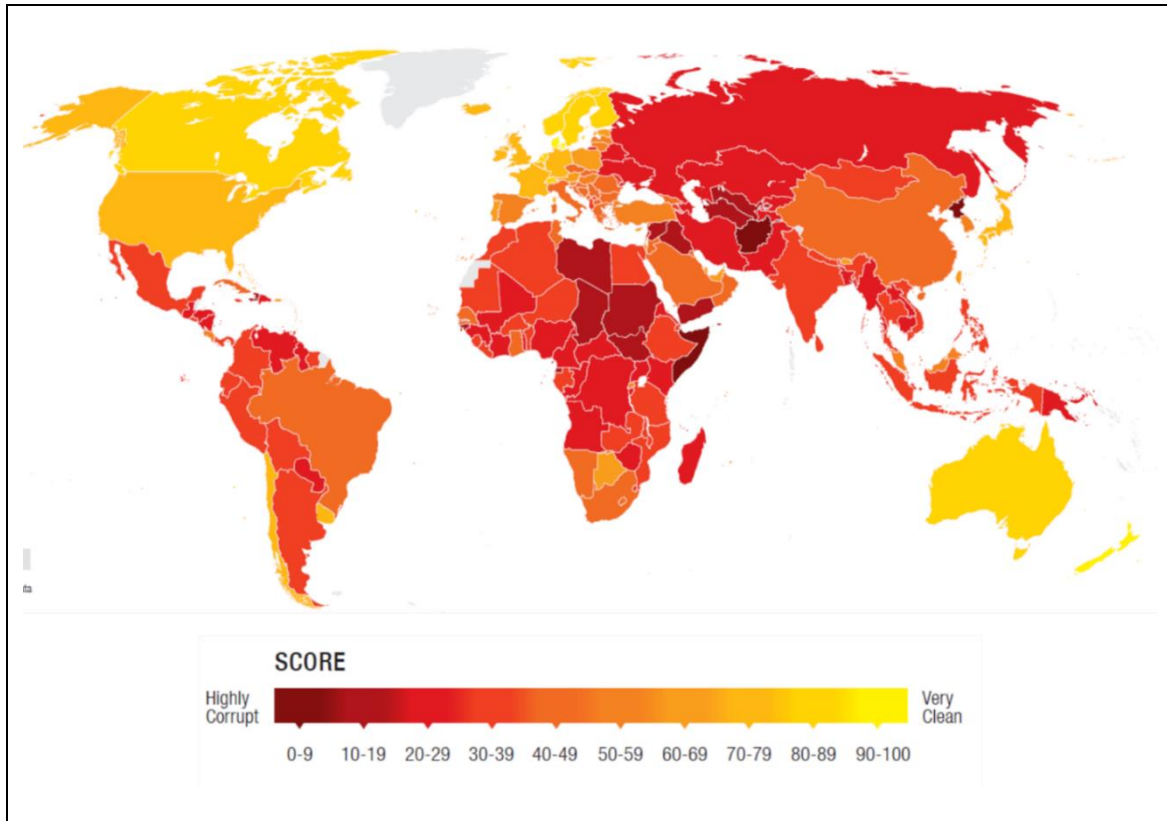
2 – As figuras abaixo ilustram alguns sistemas de gestão de bacias hidrográficas que já estão em operação no Brasil e em MG. Discuta a afirmativa: “As bacias hidrográficas são a unidade de gestão das águas no Brasil” .

Favor pesquisar em: http://www.rmpceecologia.com/livro/Crise_Aguas/crise_nas_aguas.htm



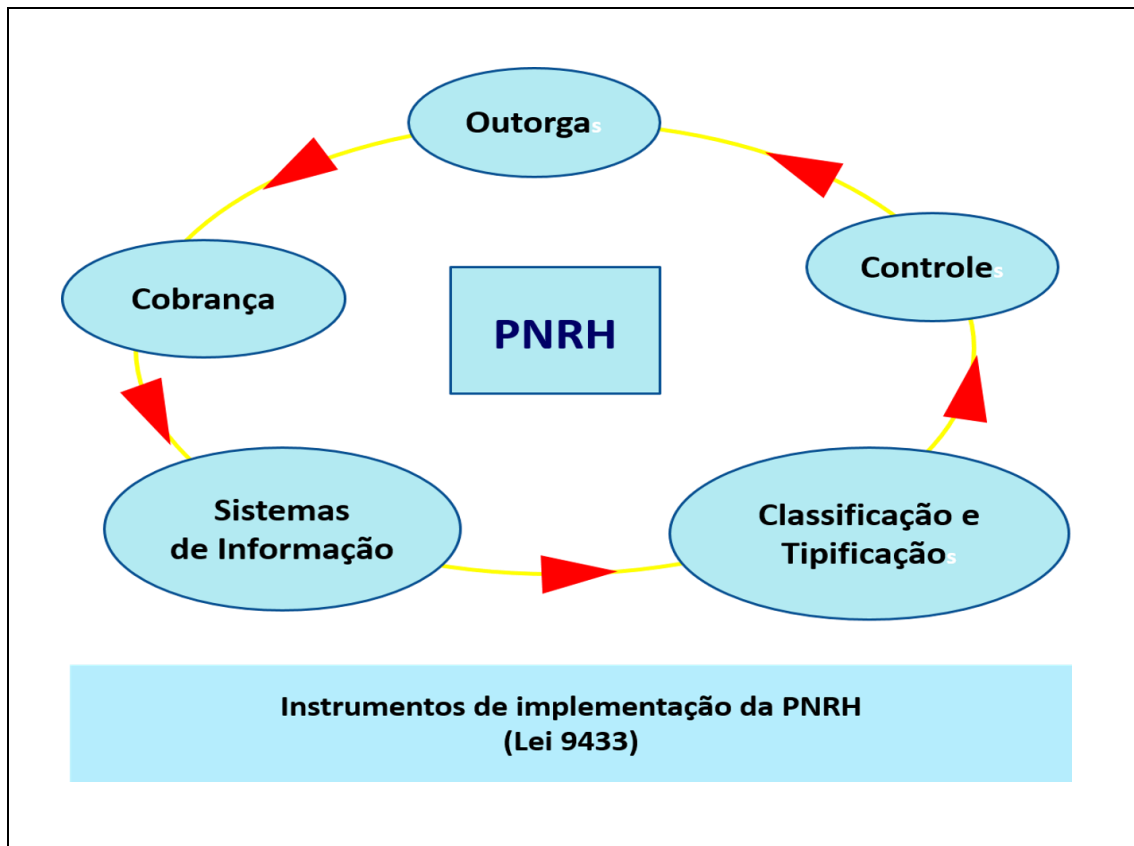
3- Como a corrupção sistêmica pode afetar a governança das águas e impedir a mitigação dos impactos ambientais em recursos hídricos? Você acha que a corrupção pode ter algo a ver com os desastres que ocorreram nas barragens que romperam recentemente em MG?

Pesquise em: http://www.rmpceecologia.com/livro/Crise_Aguas/crise_nas_aguas.htm



4 – Defina o que são “instrumentos de gestão” e como eles podem ser usados para controlar, mitigar e evitar impactos humanos em recursos hídricos.

Favor pesquisar em: http://www.rmpcecolgia.com/livro/Crise_Aguas/crise_nas_aguas.htm



Obs: você tem 24 horas para enviar – VIA E-MAIL- ao professor esse questionário respondido. É possível tanto responder de modo individual quando em grupo. Não se esqueça de colocar o nome completo antes de enviar ao professor. Responda usando o MS-Word, se possível.

E-mail: rpcoelhp@ufsj.edu.br

Respostas

Questão - 1

[use esse espaço para sua resposta]

Questão - 2

[use esse espaço para sua resposta]

Questão - 3

[use esse espaço para sua resposta]

Questão -4

[use esse espaço para sua resposta]

Informações

Nome(s) do(s) Estudante(s)

1 –

2-

3-

4 –

5-

Data: _____